

VOCABULAIRE GÉOMÉTRIQUE

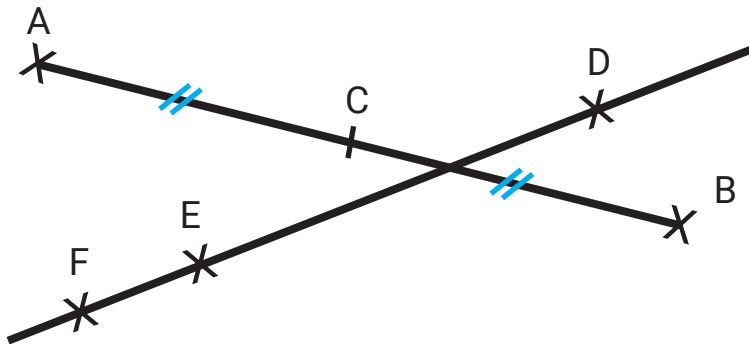


Voici les objectifs des exercices :

- ✓ Connaître le vocabulaire utilisé en géométrie.
- ✓ Connaître le codage utilisé en géométrie.

1 Place les mots ci-dessous aux bons endroits.

segment - point - droite - milieu - alignés - figure plane



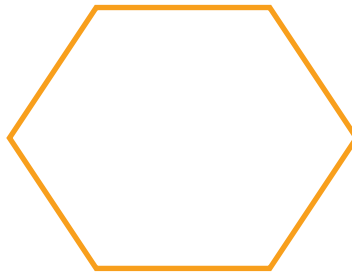
[AB] est un **segment**. Le **point** C est le **milieu** de [AB].
 (DE) est une **droite**. Les points D, E et F sont **alignés**.
 GHIJ est une **figure plane**.

2 Suis les consignes.

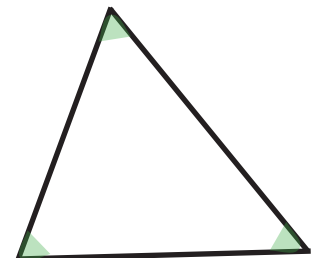
Colorie les sommets en bleu.



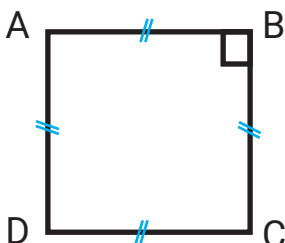
Repasse les côtés en orange.



Colorie les angles en violet.



3 Complète les phrases.



ABCD est un **carré**.
 Les segments [AB], [BC], [CD] et [DA] ont la même **longueur**.
 ABCD a **4** sommets.
 ABCD a **4** côtés.