

UTILISER LE COMPAS

Prénom :

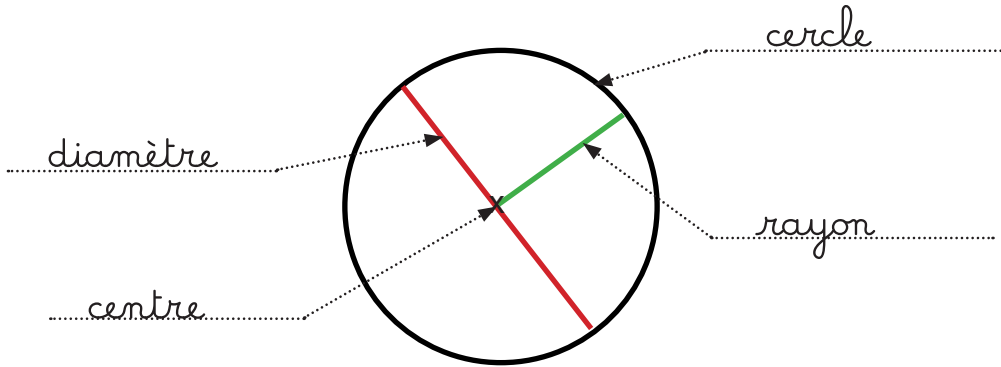
Date :



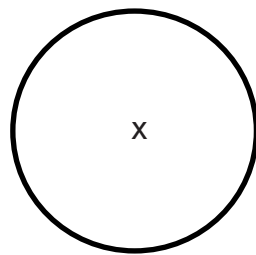
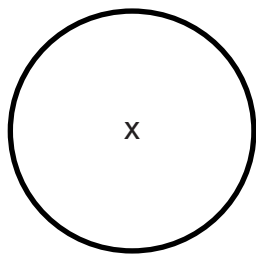
Voici les objectifs des exercices :

- ✓ Connaître les propriétés du cercle.
- ✓ Tracer un cercle.

1 Complète avec les mots qui manquent.



2 Reproduis ce cercle.



3 Dessine les rayons du vélo.



4 Trace un cercle à partir du rayon.

