

SOUSTRACTIONS EN LIGNE

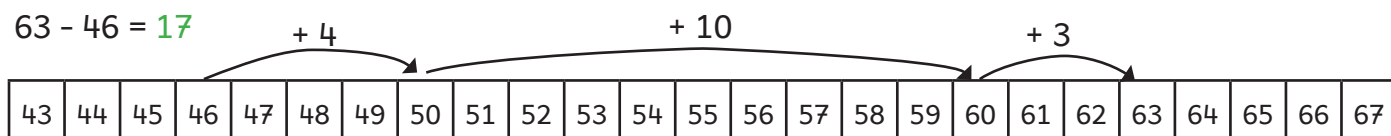


Voici les objectifs des exercices :

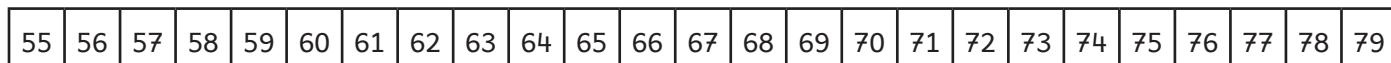
- ✓ Soustraire deux nombres en ligne.
- ✓ Soustraire en s'aidant d'une addition à trous.

1 Effectue les calculs en t'aidant de la frise numérique comme dans l'exemple.

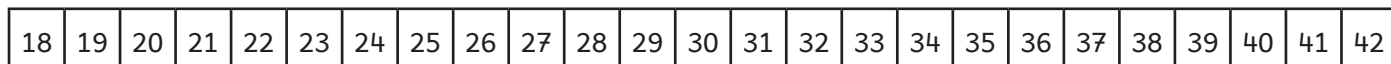
$63 - 46 = 17$



$73 - 59 =$



$42 - 18 =$



2 Utilise l'addition à trous.

$52 - 28 =$ $28 +$ $= 52$ donc : $52 - 28 =$

$60 - 35 =$ $35 +$ $= 60$ donc : $60 - 35 =$

$144 - 26 =$ $26 +$ $= 144$ donc : $144 - 26 =$

3 Effectue ces soustractions.

$96 - 38 =$

$72 - 16 =$

$133 - 18 =$

$191 - 14 =$

$166 - 29 =$

$182 - 36 =$

$65 - 19 =$

$175 - 18 =$