

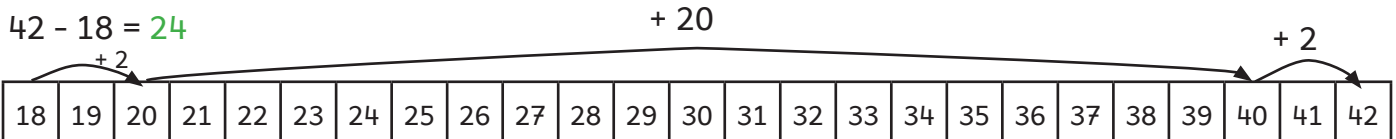
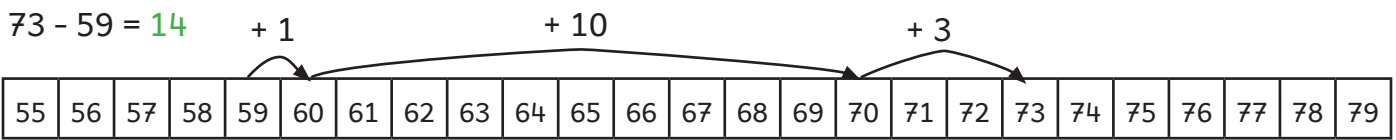
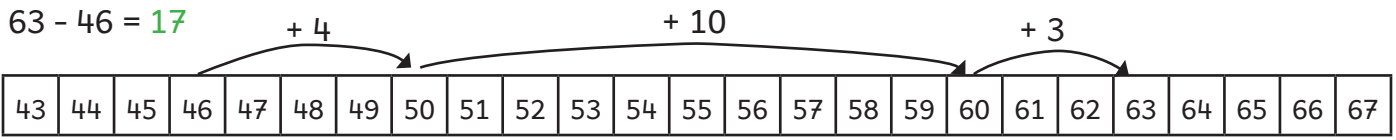
SOUSTRACTIONS EN LIGNE



Voici les objectifs des exercices :

- ✓ Soustraire deux nombres en ligne.
- ✓ Soustraire en s'aidant d'une addition à trous.

1 Effectue les calculs en t'aidant de la frise numérique comme dans l'exemple.



2 Utilise l'addition à trous.

$52 - 28 = \underline{\quad}$ $\Rightarrow 28 + 24 = 52$ donc : $52 - 28 = 24$

$60 - 35 = \underline{\quad}$ $\Rightarrow 35 + 25 = 60$ donc : $60 - 35 = 25$

$144 - 26 = \underline{\quad}$ $\Rightarrow 26 + 18 = 144$ donc : $144 - 26 = 18$

3 Effectue ces soustractions.

$96 - 38 = 58$ $72 - 16 = 56$

$133 - 18 = 115$ $191 - 14 = 177$

$166 - 29 = 137$ $182 - 36 = 146$

$65 - 19 = 46$ $175 - 18 = 157$