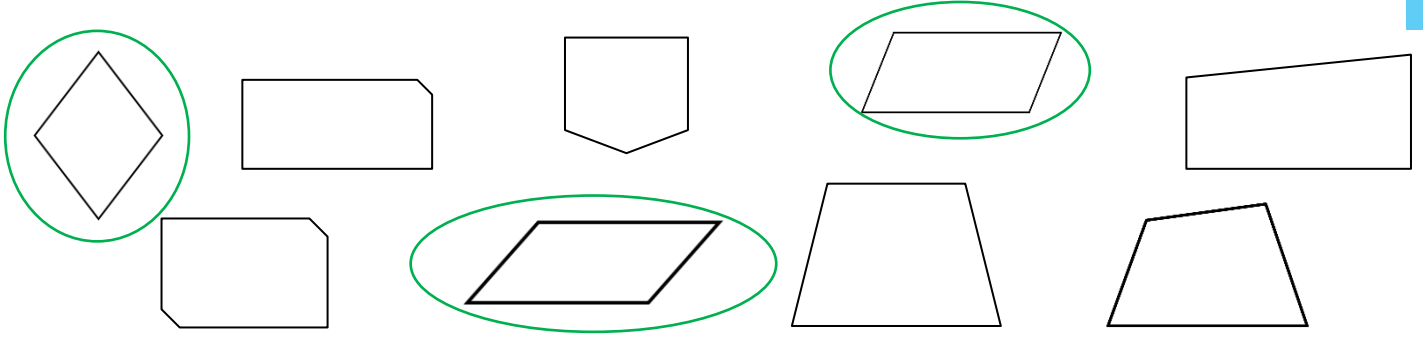


- ✓ Distinguer les quadrilatères particuliers.
- ✓ Distinguer les propriétés des quadrilatères.

Prénom :

Date :

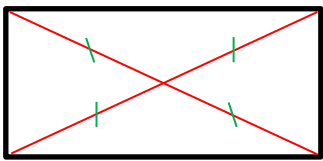
1 Entoure les parallélogrammes.



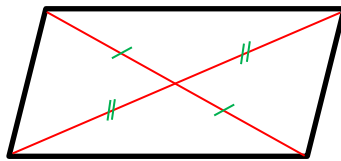
2 Coche Vrai ou Faux.

	Vrai	Faux
Le carré a des diagonales perpendiculaires.	X	
Le rectangle a 5 angles droits.		X
Le parallélogramme a toujours 4 côtés de même longueur.		X
Le quadrilatère a 4 côtés.	X	
Le rectangle a des diagonales de même longueur.	X	
Le losange a des diagonales perpendiculaires.	X	
Le losange a des diagonales de même longueur.		X
Le carré n'a pas d'angles droits.		X

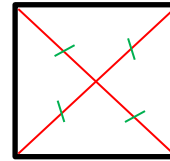
3 Dessine les diagonales des figures et code-les.



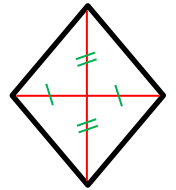
rectangle



parallélogramme



carré



losange

4 Trouve le nom des quadrilatères en t'aidant du codage.

