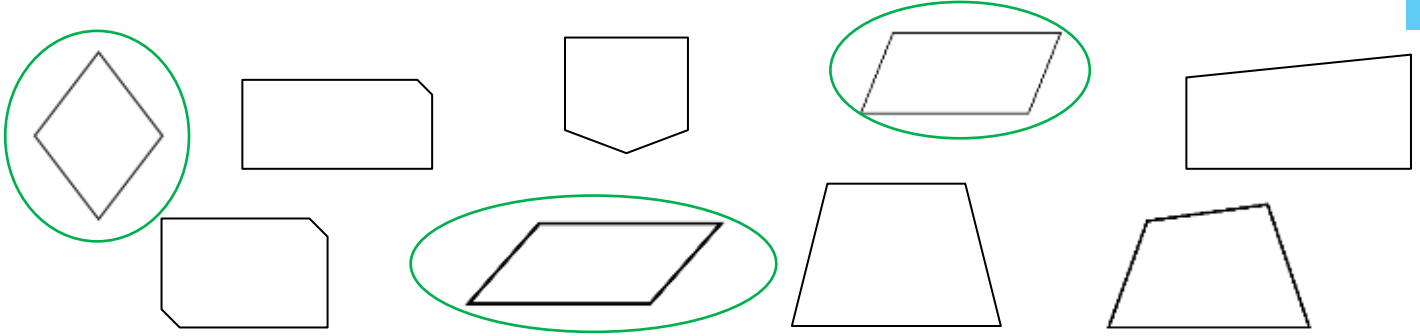


- ✓ Distinguer les quadrilatères particuliers.
- ✓ Distinguer les propriétés des quadrilatères.

Prénom :

Date :

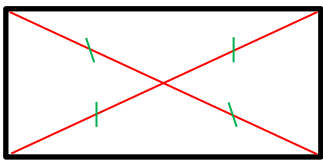
1 Entoure les parallélogrammes.



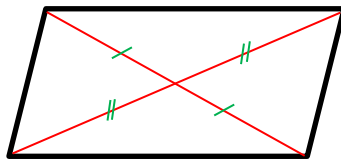
2 Coche Vrai ou Faux.

| | Vrai | Faux |
|---|------|------|
| Le carré a des diagonales perpendiculaires. | X | |
| Le rectangle a 5 angles droits. | | X |
| Le parallélogramme a toujours 4 côtés égaux. | | X |
| Le quadrilatère a 4 côtés. | X | |
| Le rectangle a des diagonales égales. | X | |
| Le losange a des diagonales perpendiculaires. | X | |
| Le losange a des diagonales égales. | | X |
| Le carré n'a pas d'angles droits. | | X |

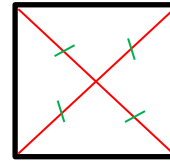
3 Dessine les diagonales des figures et code-les.



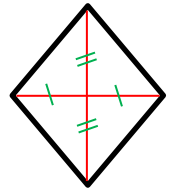
rectangle



parallélogramme



carré



losange

4 Trouve le nom des quadrilatères en t'aidant du codage.

