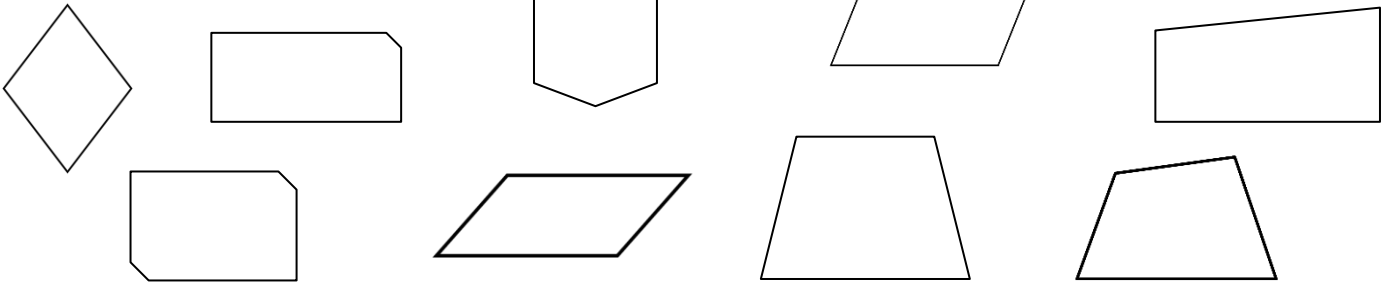


- ✓ Distinguer les quadrilatères particuliers.
- ✓ Distinguer les propriétés des quadrilatères.

Prénom :

Date :

1 Entoure les parallélogrammes.



2 Coche Vrai ou Faux.

	Vrai	Faux
Le carré a des diagonales perpendiculaires.		
Le rectangle a 5 angles droits.		
Le parallélogramme a toujours 4 côtés de même longueur.		
Le quadrilatère a 4 côtés.		
Le rectangle a des diagonales de même longueur.		
Le losange a des diagonales perpendiculaires.		
Le losange a des diagonales de même longueur.		
Le carré n'a pas d'angles droits.		


3 Dessine les diagonales des figures et code-les.




rectangle



parallélogramme



carré



losange

4 Trouve le nom des quadrilatères en t'aidant du codage.

