

# Pyramide et prisme

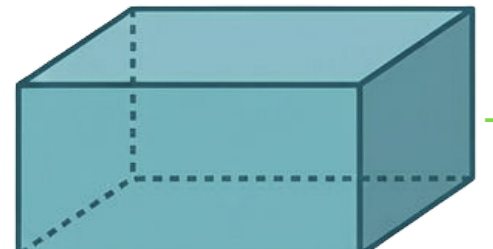
## décrire un solide

nombre total de faces, de sommets et d'arêtes

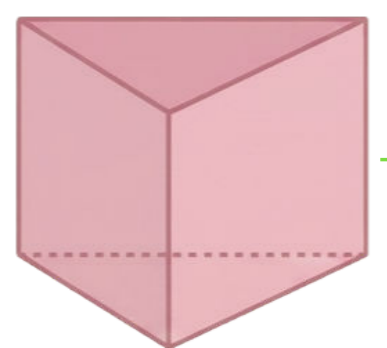
nombre et forme des faces latérales

nombre et forme des bases

## prisme



prisme à base rectangulaire



prisme à base triangulaire

faces rectangulaires

2 bases superposables

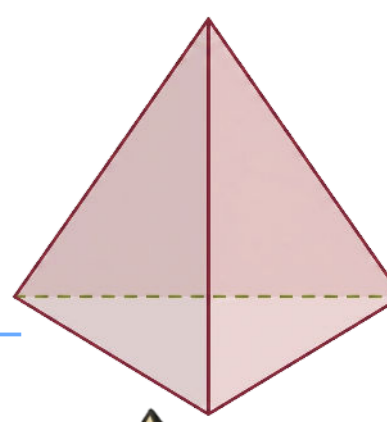
## pyramide

base polygonale

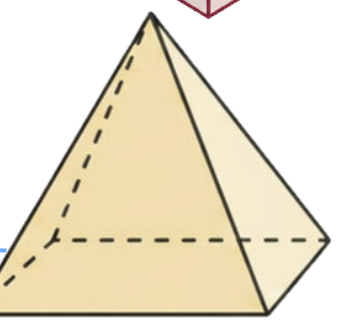
faces triangulaires

sommet commun

pyramide à base triangulaire



pyramide à base rectangulaire



pyramide à base pentagonale

