

LES PRESQUE DOUBLES

Voici les objectifs des exercices :

- ✓ S'appuyer sur les doubles pour effectuer des additions.
- ✓ Utiliser des stratégies de calcul.



1 Calcule les doubles.

$$8 + 8 = 16$$

$$7 + 7 = 14$$

$$6 + 6 = 12$$

$$9 + 9 = 18$$

$$4 + 4 = 17$$

$$9 + 9 = 18$$

$$6 + 6 = 12$$

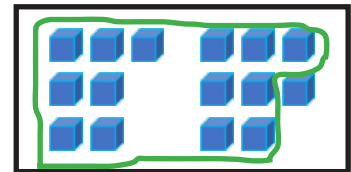
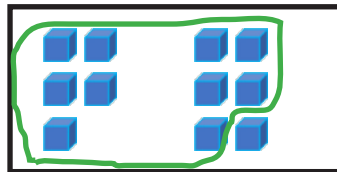
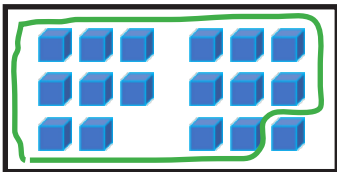
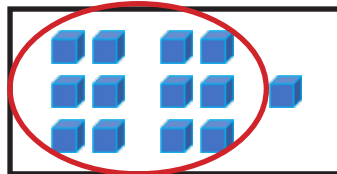
$$8 + 8 = 16$$

$$5 + 5 = 10$$

$$7 + 7 = 14$$

2 Entoure les doubles que tu vois comme dans l'exemple.

Exemple :



3 Effectue les calculs comme dans l'exemple.

Exemple : $8 + 9 = 8 + 8 + 1 = 16 + 1 =$



• $7 + 8 = 7 + 7 + 1 = 14 + 1 = 15$



• $6 + 7 = 6 + 6 + 1 = 12 + 1 = 13$

• $9 + 8 = 1 + 8 + 8 = 1 + 16 = 17$

• $5 + 6 = 5 + 5 + 1 = 10 + 1 = 11$