

LES CENTAINES



Voici les objectifs des exercices :

- ✓ Lire les nombres jusqu'à 999.
- ✓ Associer des nombres à différentes représentations.


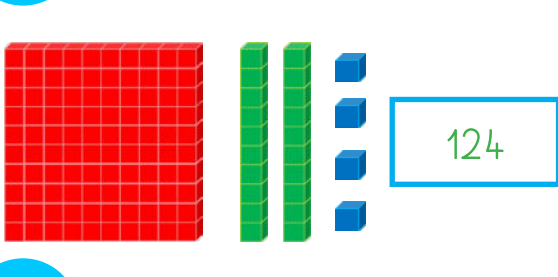
1

Lis ces nombres et entoure les centaines en orange.

758 546 987 342 45 123 654

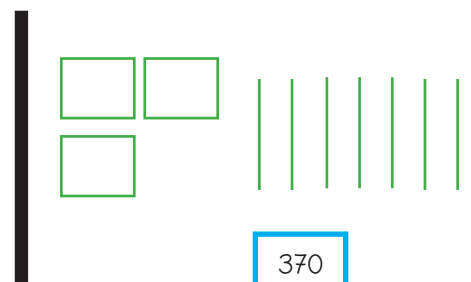
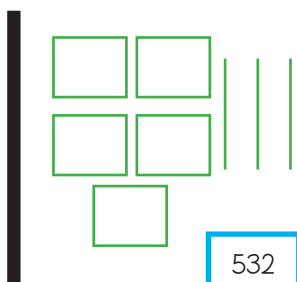
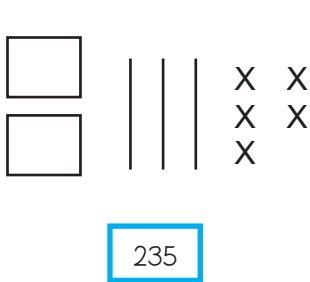
2

Ecris le nombre de cubes.



3

Dessine comme dans l'exemple.



4

Colorie de la même couleur les cases qui ont les mêmes nombres.

564 5c 4d 6u 5 centaines 4 dizaines 6 unités

654 5c 6d 4u

6 centaines 5 dizaines 4 unités 6c 5d 4u 5 centaines 6 dizaines 4 unités

4c 5d 6u 546 4 centaines 5 dizaines 6 unités 456