

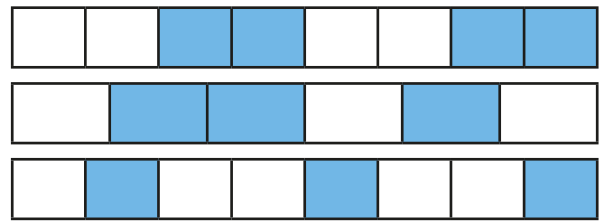
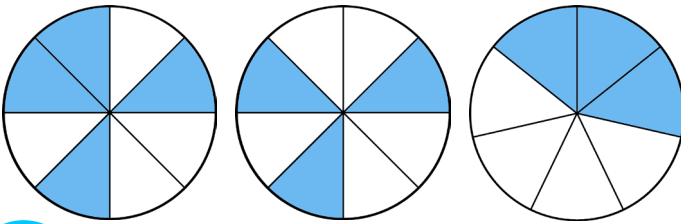
LIRE, ÉCRIRE ET REPRÉSENTER DES FRACTIONS



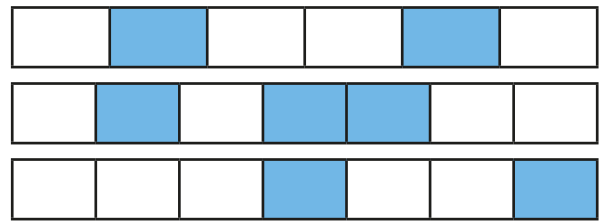
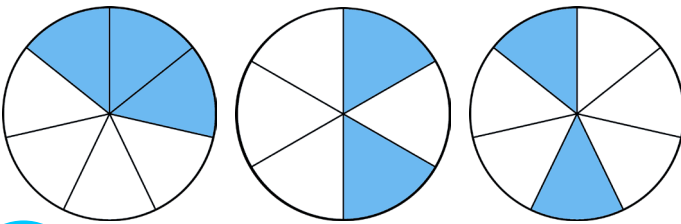
Voici les objectifs des exercices :

- ✓ Lire et interpréter des fractions.
- ✓ Représenter et écrire des fractions.

1 Entoure les figures qui représentent $\frac{3}{8}$.



2 Entoure les figures qui représentent $\frac{2}{7}$.



3 Colorie les bandes de papier pour représenter les fractions demandées.

$\frac{2}{6}$



$\frac{4}{7}$



$\frac{1}{3}$




$\frac{2}{4}$



4 Sous chaque figure, note à quelle fraction correspond la partie bleue

┌ ┐



┌ ┐

┌ ┐



┌ ┐

┌ ┐



┌ ┐

