

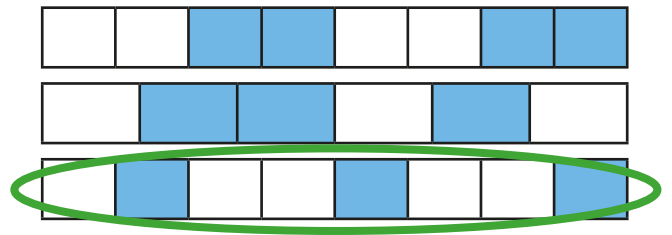
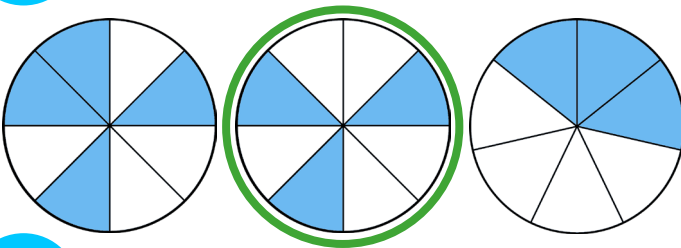
LIRE, ÉCRIRE ET REPRÉSENTER DES FRACTIONS



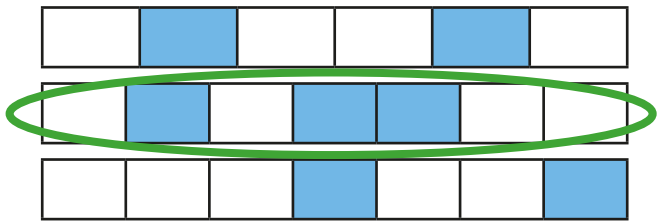
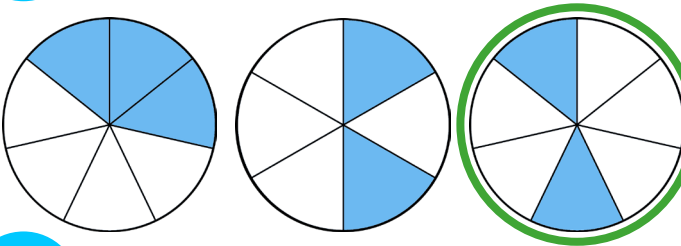
Voici les objectifs des exercices :

- ✓ Lire et interpréter des fractions.
- ✓ Représenter et écrire des fractions.

1 Entoure les figures qui représentent $\frac{3}{8}$.



2 Entoure les figures qui représentent $\frac{2}{7}$.



3 Colorie les bandes de papier pour représenter les fractions demandées.

$$\frac{2}{6}$$



$$\frac{4}{7}$$



$$\frac{1}{3}$$



$$\frac{2}{4}$$



4 Sous chaque figure, note à quelle fraction correspond la partie bleue

$$\left[\frac{1}{2} \right]$$



$$\left[\frac{2}{9} \right]$$



$$\left[\frac{1}{10} \right]$$



$$\left[\frac{3}{5} \right]$$

