

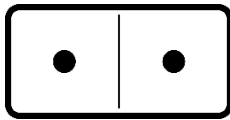
Prénom :

Date :


1 Entoure les doubles.

$5 + 5$ $0 + 1$ $3 + 4$ $1 + 1$
 $0 + 0$ $2 + 3$ $4 + 4$ $2 + 2$ $3 + 3$
 $5 + 5 + 5$

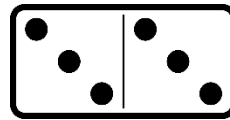
2 Ecris les réponses des doubles.



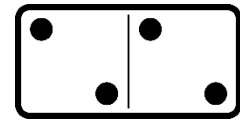
double de 1 = ___



double de 5 = ___



double de 3 = ___



double de 2 = ___

3 Relie les calculs et les réponses.

$2 + 2$ •	$3 + 3$ •	$0 + 0$ •	$5 + 5$ •	$1 + 1$ •
•	•	•	•	•
6	0	4	2	10

4 Trouve les réponses.

double de 5 = _____

$4 + 4 =$ _____

double de 3 = _____

$0 + 0 =$ _____

$1 + 1 =$ _____

double de 2 = _____

double de 4 = _____

$2 + 2 =$ _____

double de 0 = _____