


- ✓ Dénombrer en s'appuyant sur les dizaines.
- ✓ Utiliser les dizaines et les unités.

Prénom :

Date :

1 Combien y a-t-il de pommes ? Compte les dizaines et les unités.




Dizaines :

Unités :

2 Dessine 2 dizaines de carrés et 6 carrés.



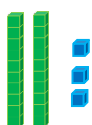
3 Fais des paques de 10 pour compter les étoiles.



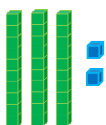
D	U

Il y a _____ étoiles.


4 Complète en t'aidant de l'exemple.




$$20 + 3 = 23$$



$$__ + __ = __$$



$$__ + __ = __$$



$$__ + __ = __$$