

Prénom :

Date :

1 Ecris les fractions qui correspondent aux dessins.

2 Colorie les parts représentées par les fractions.

	$\frac{1}{2}$		$\frac{2}{3}$
	$\frac{4}{6}$		$\frac{3}{7}$
	$\frac{3}{4}$		$\frac{4}{5}$
	$\frac{5}{8}$		$\frac{4}{9}$

3 Complète les phrases avec les mots (parts, l'unité) et les nombres.


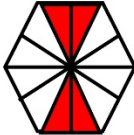
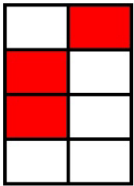
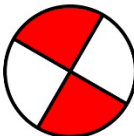




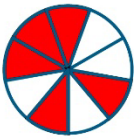


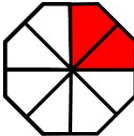
Le dénominateur indique le nombre de parts de

Le numérateur de $\frac{2}{9}$ est

Le numérateur indique le nombre de que l'on prend.

Le numérateur de $\frac{3}{4}$ est

4 Relie les fractions avec les parties coloriées en rouge qui correspondent. Il y a des pièges.

$\frac{5}{8}$			$\frac{5}{16}$
$\frac{3}{4}$			$\frac{2}{4}$
$\frac{3}{8}$			$\frac{6}{8}$
$\frac{2}{4}$			$\frac{2}{8}$
$\frac{1}{2}$			$\frac{5}{8}$
$\frac{1}{4}$			$\frac{4}{12}$