

# Mathématiques

## Comparer des longueurs

1

Range les traits du plus petit au plus grand.


A 

B 

C 



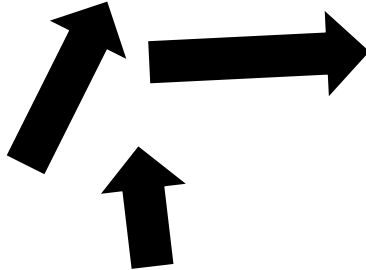
D 

E 

2

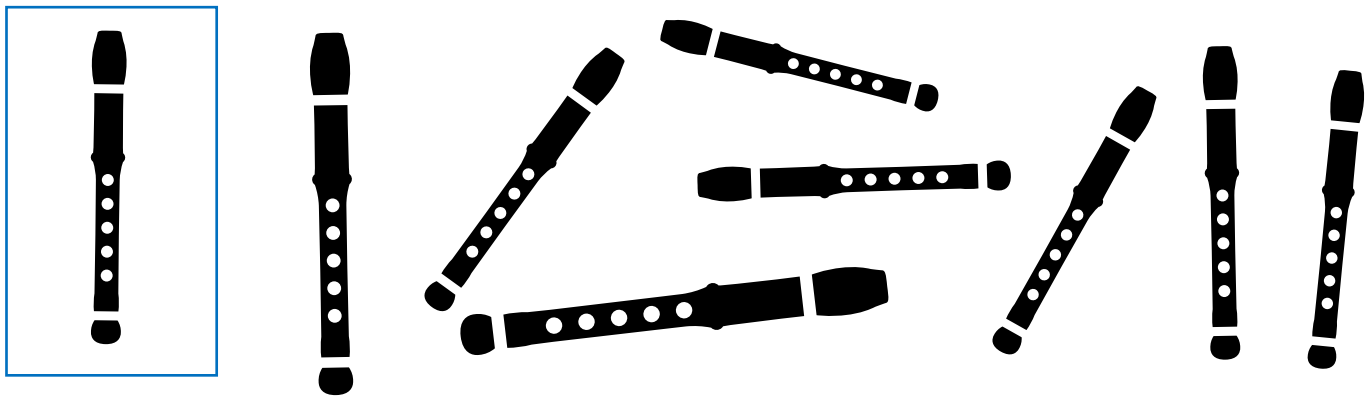
Entoure l'objet le plus grand en bleu et le plus petit en orange.

		
---	---	---

		
---	---	---

3

Entoure les flûtes qui ont la même longueur que celle dans la case.



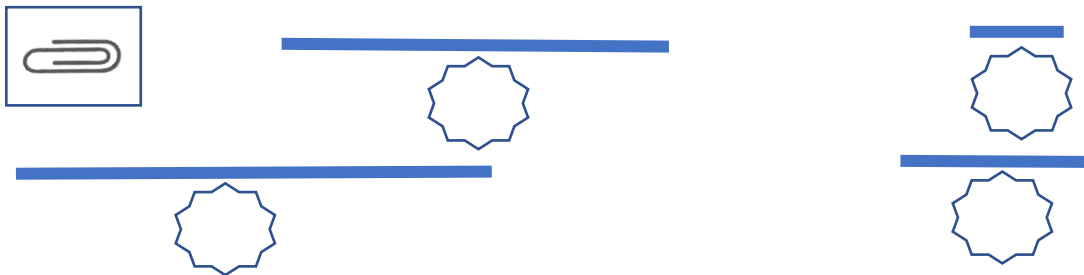
4

Samy a perdu sa béquille, trouve la béquille de la même taille que celle dans la case.



5

Combien faut-il de trombones pour mesurer ces traits ?



6

Colorie les bandes selon le nombre de trombones demandé.

	3	<input type="text"/>
	6	<input type="text"/>
	4	<input type="text"/>
	5	<input type="text"/>

Prénom : \_\_\_\_\_

Date : \_\_\_\_\_

