

Se repérer dans le temps

Apprendre à lire les minutes

Il y a plusieurs manières d'écrire l'heure :

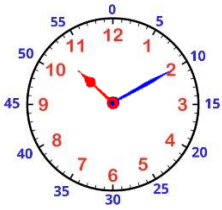
14 heures 23 minutes

14 h 23 min

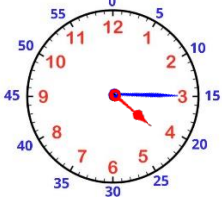
14h23

14:23

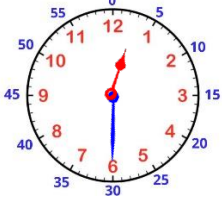
1 Relie les horloges aux bonnes heures.



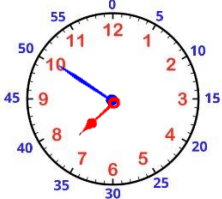
• 7:50



• 12h30

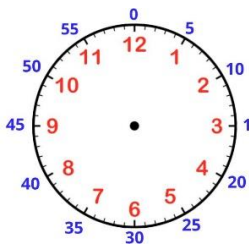


• 4 heures 15 minutes

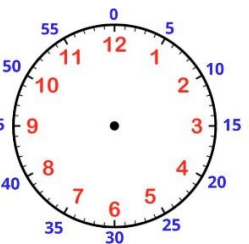


• 10h10

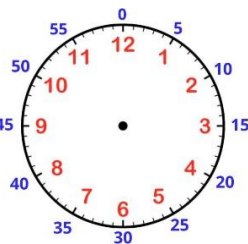
2 Dessine les aiguilles en fonction de l'heure indiquée.



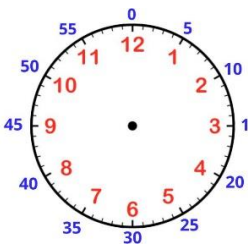
23:25



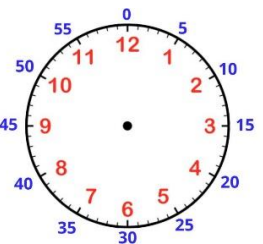
8h30



7h55



20h05



16h15

3

Quelle heure est-il ?



___ h ___

___ h ___

___ h ___

___ h ___

___ h ___

4

Coche l'heure indiquée sur chaque horloge (plusieurs choix possible).



- 6h et demie
- 6h06
- 18:30
- 18h et quart

- 12h03
- midi et quart
- 1h15
- 12h et quart

- 3h et quart
- 3:03
- 15h15
- 15h et demie

- 12:12
- minuit
- 12h
- midi

- 1h30
- 6h12
- midi 30
- 12h et demie

5

A quelle heure fais-tu ces activités ?



___ h ___



___ h ___



___ h ___



___ h ___