

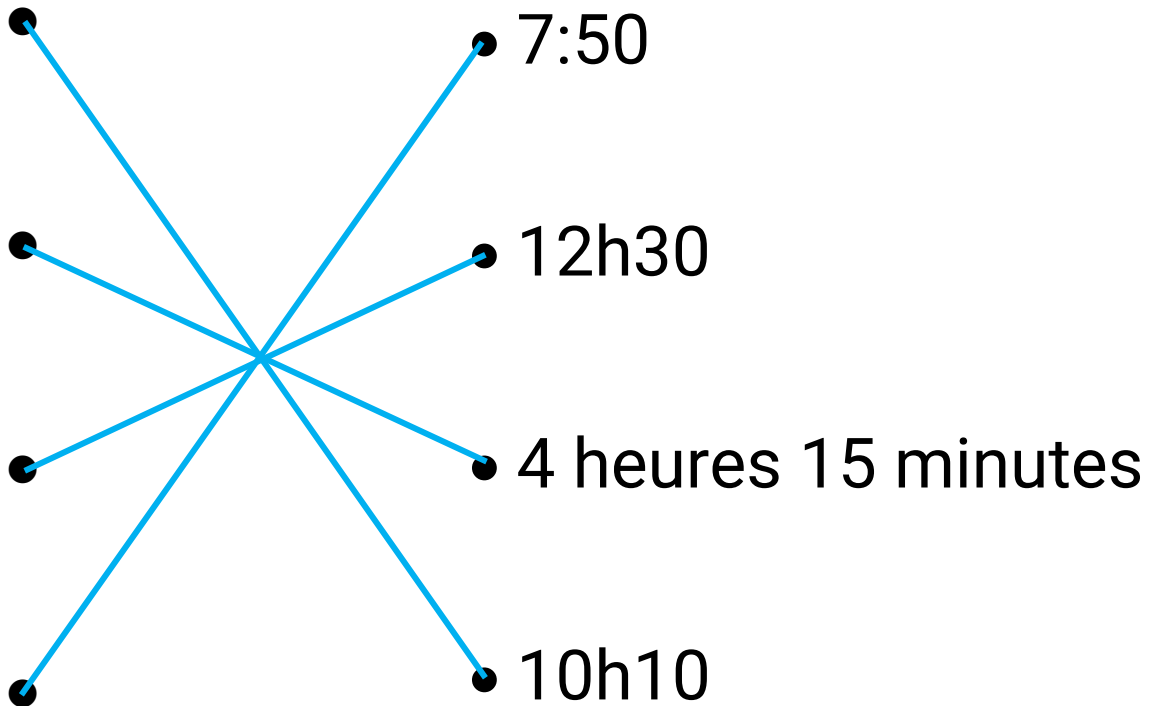
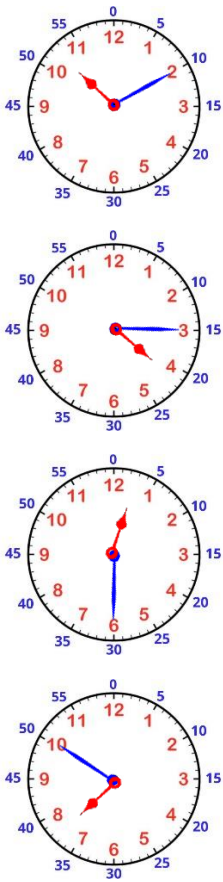
# Se repérer dans le temps

## *Apprendre à lire les minutes*

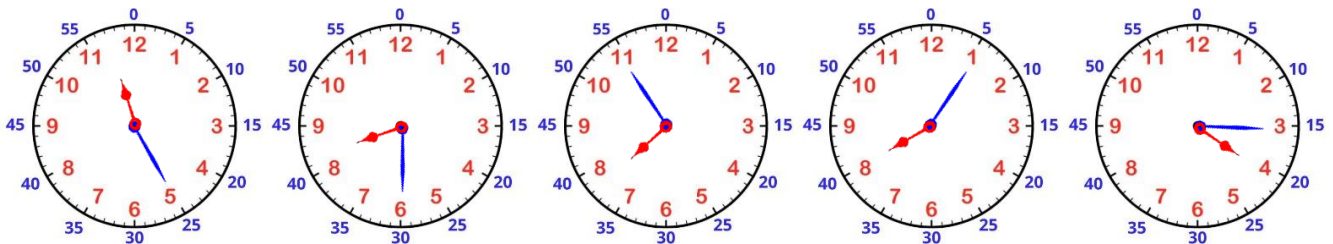
Il y a plusieurs manières d'écrire l'heure :

14 heures 23 minutes      14 h 23 min      14h23      14:23

### 1 Relie les horloges aux bonnes heures.



### 2 Dessine les aiguilles en fonction de l'heure indiquée.



23:25

8h30

7h55

20h05

16h15

3

Quelle heure est-il ?



5h55 ou 17h55



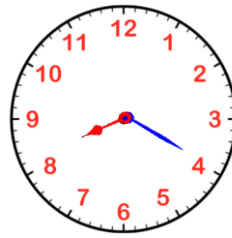
8h05 ou 20h05



3h00 ou 15h00



6h35 ou 18h35



8h20 ou 20h20

4

Coche l'heure indiquée sur chaque horloge (plusieurs choix possible).



- 6h et demie
- 6h06
- 18:30
- 18h et quart



- 12h03
- midi et quart
- 1h15
- 12h et quart



- 3h et quart
- 3:03
- 15h15
- 15h et demie



- 12:12
- minuit
- 12h
- midi



- 1h30
- 6h12
- midi 30
- 12h et demie

5

A quelle heure fais-tu ces activités ?



\_\_\_ h \_\_\_



\_\_\_ h \_\_\_



\_\_\_ h \_\_\_



\_\_\_ h \_\_\_