

- ✓ Identifier les nombres jusqu'à 20.
- ✓ Dénombrer des quantités jusqu'à 20.

Prénom :

Lundi	Mardi	Mercredi	Jeudi	Vendredi
-------	-------	----------	-------	----------

1

Ecris dans la case combien il y a d'animaux dans chaque ligne.

15 éléphants

15 lapins

12 cochons

10 chevaux

15 poules

18 canards


15 chiens

10 chats

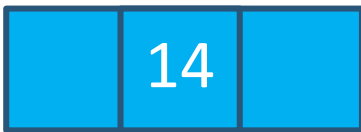
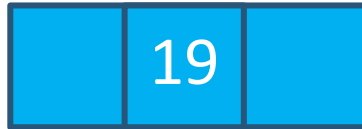
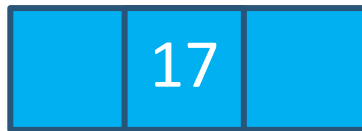
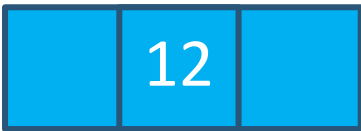
2

Ecris le nombre de points dessinés.


3 Ecris les nombres manquants.



4 Trouve les nombres avant et après.




5 Relie les nombres de 1 à 20.



6

Ecris les nombres manquants.



5

Relie.

12

11

19

20

17

15

14



14

16

10

18

13

20

19









