

- ✓ Identifier les nombres jusqu'à 20.
- ✓ Dénombrer des quantités jusqu'à 20.

Prénom :

Lundi	Mardi	Mercredi	Jeudi	Vendredi
-------	-------	----------	-------	----------

1

Ecris dans la case combien il y a d'animaux dans chaque ligne.

13

15

12

11

16

18

17

14

11

2

Ecris le nombre de points dessinés.

15

20

18

19

3 Ecris les nombres manquants.

1 2 3 4 5 6 7 8 9 10 11 12 13 14 15 16 17 18 19 20

1 2 3 4 5 6 7 8 9 10 11 12 13 14 15 16 17 18 19 20

4 Trouve les nombres avant et après.

11 12 13

16 17 18

14 15 16

14 15 16

18 19 20


17 18 19

13 14 15

10 11 12


13 14 15

5 Relie les nombres de 1 à 20.



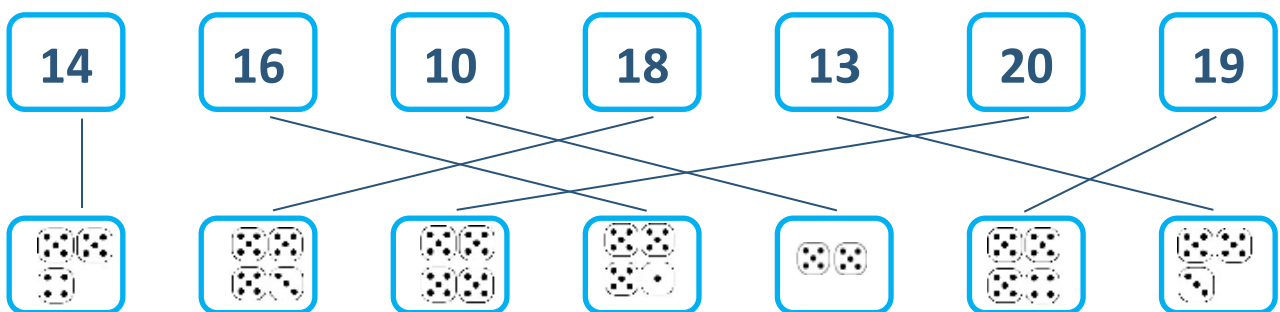
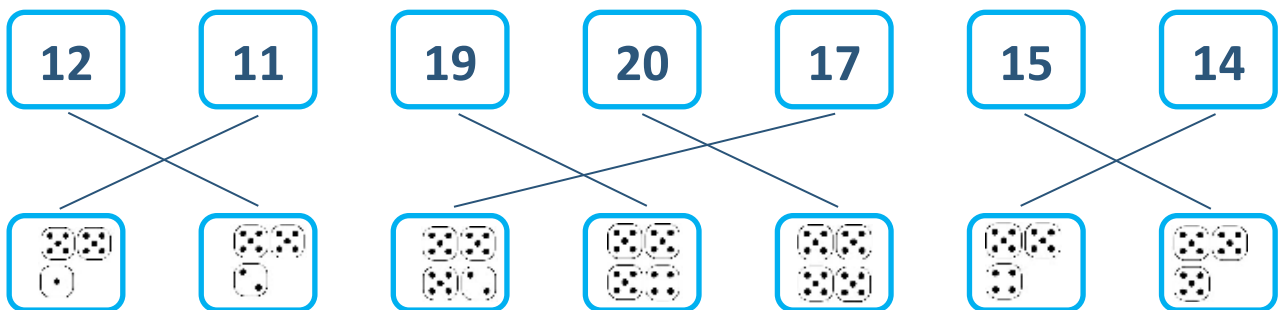
6

Ecris les nombres manquants.



5

Relie.





11



19



18



14