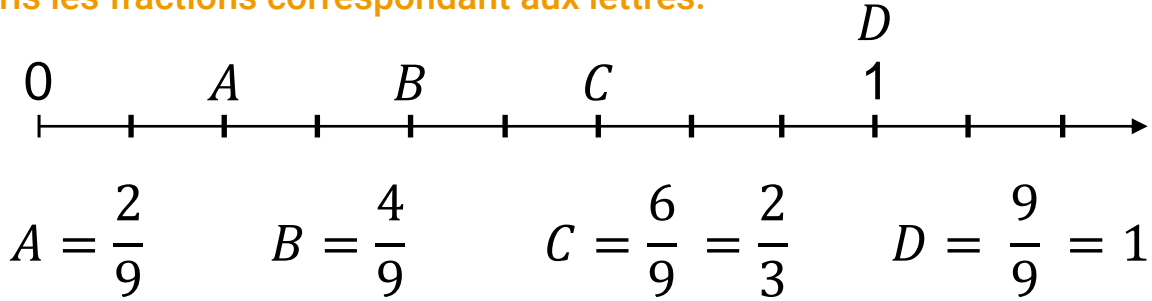


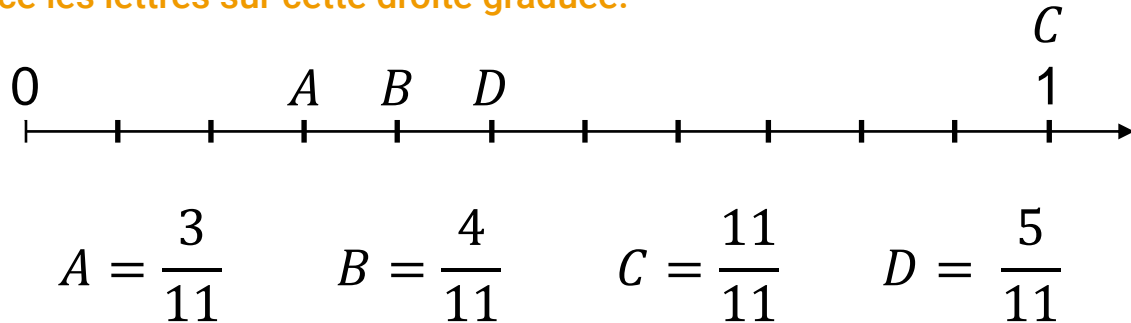
Prénom :

Date :

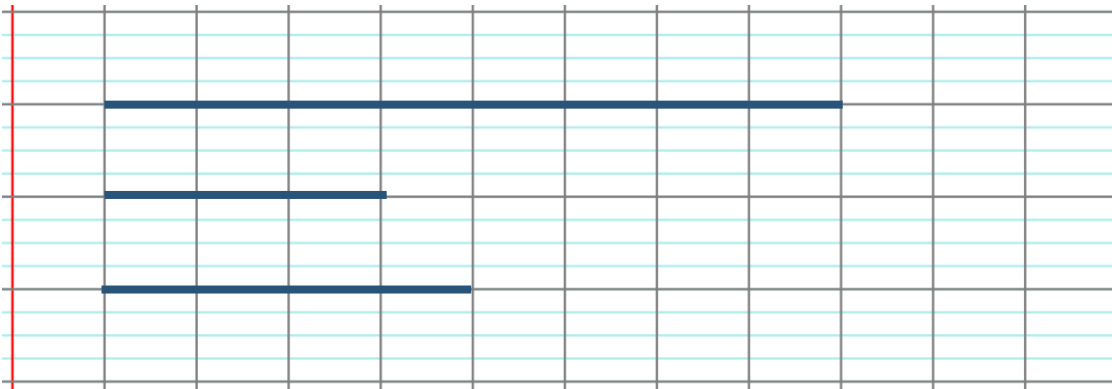
1 **Ecris les fractions correspondant aux lettres.**



2 **Place les lettres sur cette droite graduée.**



3 **Trace un segment unité de 8 carreaux**



- Trace un segment [AB] de $\frac{3}{8}$ de u.
- Trace un segment [CD] de $\frac{1}{2}$ de u.

4 **Lis la consigne et classe la position de chacun.**

Linda, Pablo, Chris et Johanna ont fait une course de 12 km. Après 45 minutes de course, Linda a effectué $\frac{8}{10}$ du parcours, Pablo a effectué $\frac{1}{2}$ du parcours, Chris a $\frac{2}{5}$ effectué du parcours et Johanna a effectué $\frac{6}{10}$ du parcours.

Qui a parcouru le plus de distance après 45 minutes de course ? Linda

Représente une demi-droite sur une feuille de brouillon si nécessaire.